

Aşağıda verilen boşlukları doğru olacak şekilde doldurunuz.

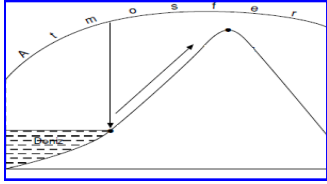


Atmosferdeki gazların yeryüzündeki birim alana uyguladıkları ağırlığa denir. Normal atmosfer basıncı olarak kabul edilir.Eğer ölçülen değer dan yüksekse ;düşükse olarak kabul edilir.Atmosfer basıncı ile ölçülür .

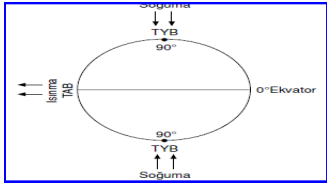
Aşağıda verilen şekillerden yola çıkarak atmosfer basıncını etkileyen faktörleri yazarak açıklayınız .



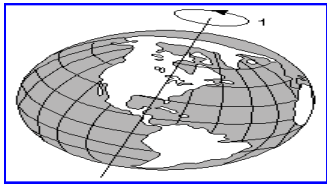
1-)



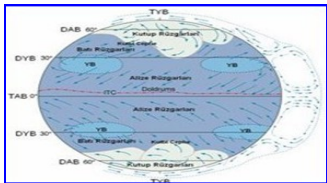
2-)



3-)



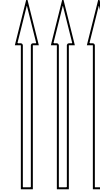
4-)



5-)

Aşağıda verilen boşlukları doğru olacak şekilde doldurunuz.

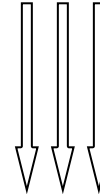
ALÇAK BASINÇ ALANLARINDA



- 1-).....
2-).....
3-).....



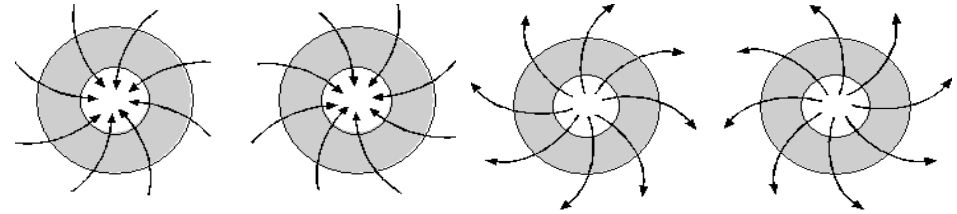
YÜKSEK BASINÇ ALANLARINDA



- 1-).....
2-).....
3-).....



Aşağıda verilen şekillerin hangi yarım kürede olduğunu ve hakim olan basınç merkezini belirtiniz.



Aşağıda verilen şekil üzerinde dünyadaki sürekli basınç kuşaklarını gösteriniz.

